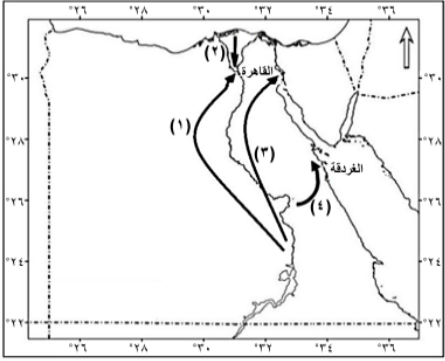


### Question 1

أمامك خريطة لبعض تيارات الهجرة داخل مصر أدرس الشكل ثم اختر تيار الهجرة المتجهة إلى مناطق التعدين والسياحة معاً هو التيار رقم .....



2

3

4

1

### Question 2

يتجه غالبية المهاجرين من سكان شرق الدلتا إلى منطقة .....

مدن القناة

الوجه القبلي

الساحلي الشمالي

القاهرة الكبرى

### Question 3

تد محافظة الوادي الجديد من المحافظات الحدودية منخفضة الكثافة السكانية في ضوء العبارة أكثر .

يرتبط وجود المراكز العمرانية في محافظة الوادي الجديد بـ.....

المناخ السائد

المياه الجارية

التركيب الجيولوجي.

المظهر التضاريسي.

## Question 4

ادرس الجدول الإحصائي الذي أمامك واطبق مفهوم الكثافة السكانية .

اصدار الجهاز المركزي للتعبئة العامة والإحصاء ابريل ٢٠١٦		
المحافظة	عدد السكان	المساحة كم <sup>٢</sup>
المنيا	٥٣٦٤٧٧٦	٣٢٢٢٧٩
الشرقية	٦٦٩٨١٦٠	٤١٨٠
الغربية	٤٨٩٠٦٦٤	١٩٤٢
الدقهلية	٦١٢٢٣٤٣	٣٤٧١

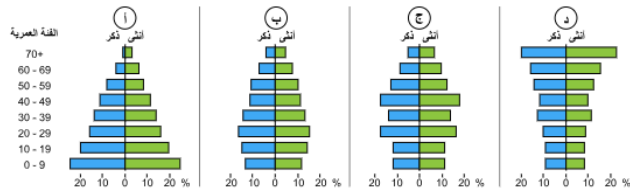
أكثر المحافظات كثافة سكانية في هذا الجدول محافظة .....

- الشرقية
- المنيا
- الدقهلية
- الغربية

## Question 5

أمامك أربعة أشكال لأهرامات سكانية لدول مختلفة ادرسها جيداً للإجابة عن السؤال التالي :-

تزداد نسبة الإعالة في الشكلين ..



- ب - ج
- أ - ب
- ج - د
- أ - د

## Question 6

تعمل الهجرة الداخلية في الدولة على .....

- تناقص معدل النمو السكاني
- إعادة توزيع السكان
- زيادة معدلات المواليد
- زيادة أعداد السكان

### Question 7

الهجرة القسرية هي انتقال الفرد من مكان لآخر دون إرادته داخل الدولة أو خارجها: في ضوء العبارة اختر  
ظهر تيار الهجرة القسرية في النصف الثاني من القرن العشرين في محافظتي .....

- الاسكندرية ومطروح
- أسوان والجيزة
- الجيزة والسويس
- السويس وأسوان

### Question 8

تسعى مصر إلى الوصول لمرحلة الاستقرار السكاني في الوقت الحالي . في ضوء العبارة اختر.  
تتميز مرحلة الاستقرار السكاني بـ .....

- ارتفاع معدل المواليد وارتفاع معدل الوفيات.
- انخفاض معدل المواليد وارتفاع معدل الوفيات.
- ارتفاع معدل المواليد وانخفاض معدل الوفيات.
- انخفاض معدل المواليد وانخفاض معدل الوفيات.

### Question 9

أكثر جهات الدلتا طرداً للسكان هي الجهات .....

- الغربية
- الشرقية
- الشمالية
- الجنوبية

### Question 10

العامل المسؤول عن مستوى الكثافة السكانية في محافظة مطروح هو .....

- التضاريس
- المناخ
- الموارد
- المساحة

### Question 11

" تختلف الخصائص الاقتصادية لسكان شبه جزيرة سيناء " في ضوء العبارة  
حدد بالأمثلة مدى اختلاف الخصائص الاقتصادية لسكان شبه جزيرة سيناء

10000 / 0 حد الكلمة

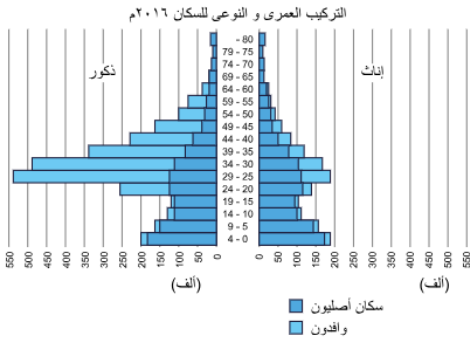
### Question 12

من خلال دراستك للتعدادات السكانية والإحصاءات الحيوية.  
حدد الطريقة المناسبة لحساب الهجرة الداخلية في محافظتك

10000 / 0 حد الكلمة

### Question 13

من خلال دراستك للهرم السكاني  
ادرس الشكل الذي أمامك ثم حدد  
سليبات هذا الهرم السكاني



10000 / 0 حد الكلمة

#### Question 14

إذا كنت في فريق يخطط لإقامة مجتمعات عمرانية جديدة، وأمامك منطقتي الدلتا والصحراء الغربية واخترت الصحراء الغربية .  
حدد الأسباب التي تدفعك لاختيار الصحراء الغربية .

☰ ☰ | U / I B

10000 / 0 حد الكلمة

#### Question 15

أمامك خريطة إدارية صماء لمحافظة مصر ادرس الخريطة جيداً ثم  
حدد نوع الكثافة السكانية في محافظتك ، وأهم المشكلات المرتبطة بالسكان فيها.



☰ ☰ | U / I B

10000 / 0 حد الكلمة

#### Question 16

حلل أسباب اختلاف الكثافة السكانية على ضفتي النيل الشرقية والغربية من القاهرة لنجع حمادى.

☰ ☰ | U / I B

10000 / 0 حد الكلمة

## Question 17

"تعتبر منطقة الدوينة جنوب شرق القاهرة إحدى أكبر المناطق العشوائية في مصر وقدت تعرضت للانقيارات الصخرية في عامي 2008 - 2019م" في ضوء الجارة .

اقتراح حلول مستقبليه للقضاء على العشوائيات في القاهرة.

☰ ☰   <u>U</u> / <b>B</b>
10000 / 0 حد الكلمة